

**Examenul național de bacalaureat 2021**  
**Proba E. d)**  
**Geografie**

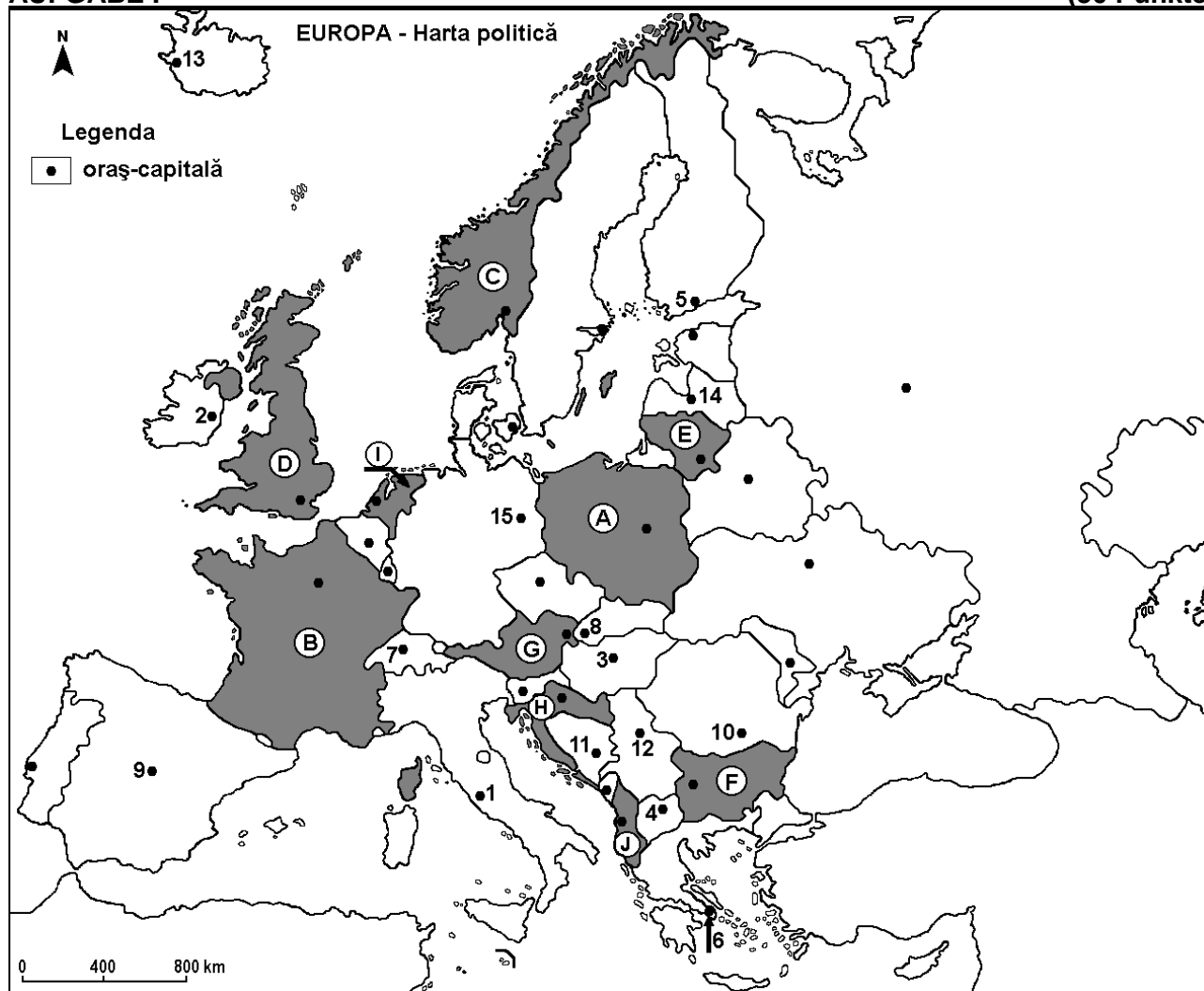
**Varianta 1**

*Profilul umanist din filiera teoretică, profilul servicii din filiera tehnologică și toate profilurile și specializările din filiera vocațională, cu excepția profilului militar*

- Toate subiectele sunt obligatorii. Se acordă zece puncte din oficiu.
- Timpul efectiv de lucru este de trei ore.

**AUFGABE I**

**(30 Punkte)**



Die oben angezeigte Karte bezieht sich auf die Aufgabe I A – E. Auf der Karte sind Staaten mit Buchstaben und Hauptstädte mit Zahlen bezeichnet.

**A.** Bestimmt:

1. den Namen des Staates, der auf der Karte mit dem Buchstaben **A** bezeichnet ist;
2. den Namen der Hauptstadt, die auf der Karte mit der Zahl **3** bezeichnet ist.

**4 Punkte**

**B.** Schreibt auf das Prüfungsblatt die richtigen Antworten, welche folgende unten angegebenen Aussagen ergänzen:

1. Die auf der Karte mit der Zahl **9** bezeichnete Hauptstadt heißt ...
2. Der auf der Karte mit dem Buchstaben **G** bezeichnete Staat heißt...
3. Litauen (Lituania) ist der Staat, bezeichnet auf der Karte mit dem Buchstaben...

**6 Punkte**

**C.** Schreibt auf das Prüfungsblatt den der richtigen Antwort entsprechenden Buchstaben für jede der folgenden unten angegebenen Behauptungen:

1. Die auf der Karte mit der Zahl **15** bezeichnete Hauptstadt heißt :

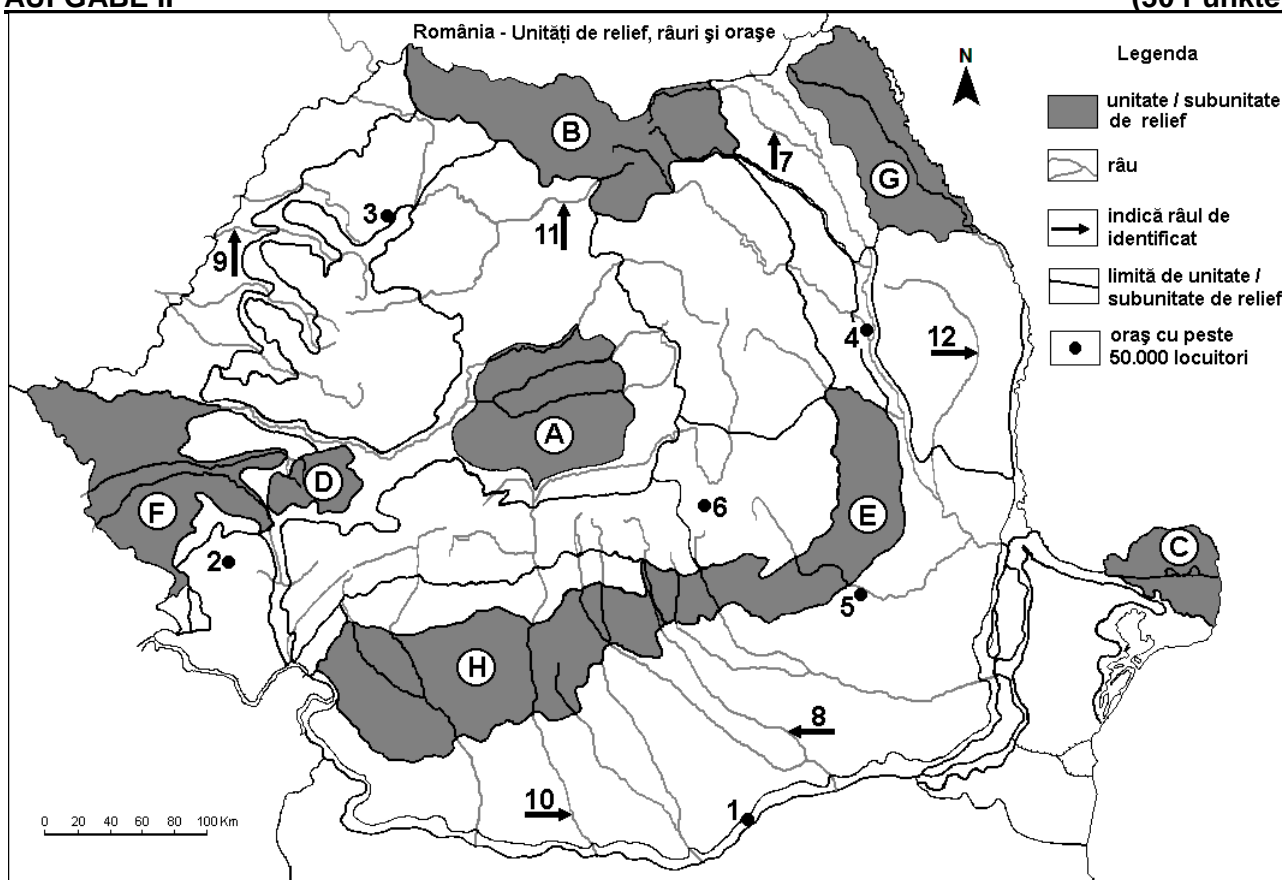
- a. Belgrad    b. Berlin    c. Pressburg (Bratislava)    d. Brüssel (Bruxelles)    **2 Puncte**
2. Der Hafen Rotterdam befindet sich in dem Staat, bezeichnet auf der Karte mit dem Buchstaben:  
a. A    b. C    c. E    d. I    **2 Puncte**
3. Das Balkengebirge (Stara Planina) befindet sich auf dem Gebiet des Staates, bezeichnet auf der Karte mit dem Buchstaben :  
a. A    b. F    c. G    d. H    **2 Puncte**
4. Der auf der Karte mit dem Buchstaben J bezeichnete Staat heißt :  
a. Albanien    b. Bosnien und Herzegowina    c. Kroatien    d. Montenegro    **2 Puncte**
5. Die Hauptstadt Athen ist bezeichnet auf der Karte mit der Zahl:  
a. 4    b. 6    c. 11    d. 12    **2 Puncte**
- D. Bestimmt drei Unterschiede zwischen dem **Klima** des Staates, bezeichnet auf der Karte mit dem Buchstaben **B** und dem **Klima** des Staates, bezeichnet auf der Karte mit dem Buchstaben **C**.  
**Bemerkung 1:** Die Unterschiede können sich auf jedwelche der folgenden **Klimaelemente** beziehen: klimabestimmende Faktoren, Klimatyp, mittlere Jahres/Sommer/Wintertemperaturwerte, thermische Amplitude, mittlere Jahres/Sommer/Winterniederschlagsmengen, vorwiegende Winde, andere klimatische Aspekte  
**Bemerkung 2:** Die vollständige Punkteanzahl wird nur dann vergeben, wenn die Unterschiede vergleichend und nicht einzeln vorgestellt werden.  
**Bemerkung 3:** Es ist **nicht** nötig, die Namen der Staaten zu nennen, man kann sich auf die Staaten auch nur mit den Buchstaben beziehen, mit denen sie auf der Karte bezeichnet sind.

**6 Puncte**

- E. 1. Nennt einen Bodenschatz, der in dem auf der Karte mit dem Buchstaben **D** bezeichneten Land gefördert wird, sowie eine Industrie, welche diesen Bodenschatz verwendet.  
2. Nennt einen natürlichen Faktor, welcher die kleine Bevölkerungsdichte in dem Staat bewirkt, dessen Hauptstadt auf der Karte mit der Zahl **13** bezeichnet ist.    **4 Puncte**

## AUFGABE II

**(30 Puncte)**



Die oben angezeigte Karte bezieht sich auf die Aufgabe II A – E. Auf der Karte sind Reliefeinheiten mit Buchstaben, Städte mit Zahlen von 1 bis 6 und Flüsse mit Zahlen von 7 bis 12 bezeichnet.

**A. Bestimmt:**

1. den Namen der Stadt, die auf der Karte mit der Zahl **5** bezeichnet ist;
2. den Namen des Flusses, der auf der Karte mit der Zahl **12** bezeichnet ist. **4 Punkte**

**B. Schreibe auf das Prüfungsblatt die richtigen Antworten, welche folgende unten angegebenen Aussagen ergänzen:**

1. Der auf der Karte mit der Zahl **10** bezeichnete Fluss heißt ...
2. Pontische klimatische Einflüsse dringen ein in die Reliefeinheit, bezeichnet auf der Karte mit dem Buchstaben...
3. Die auf der Karte mit der Zahl **2** bezeichnete Stadt heißt ... **6 Punkte**

**C. Schreibe auf das Prüfungsblatt den der richtigen Antwort entsprechenden Buchstaben für jede der folgenden unten angegebenen Behauptungen:**

1. Die größte Stadt, nach der Einwohnerzahl, die von dem auf der Karte mit der Zahl **9** bezeichneten Fluss durchquert wird, heißt :

a. Arad b. Grosswardein (Oradea) c. Sathmar (Satu Mare) d. Temeswar (Timișoara) **2 Punkte**

2. Komplexe Erze und Golderze findet man im Inneren der Reliefeinheit, bezeichnet auf der Karte mit dem Buchstaben:

a. A b. B c. C d. H **2 Punkte**

3. Die auf der Karte mit der Zahl **3** bezeichnete Stadt heißt:

a. Baia Mare b. Bistritz (Bistrița) c. Klausenburg (Cluj-Napoca) d. Zillenmarkt (Zalău) **2 Punkte**

4. Eine Waldsteppenvegetation findet man in der Reliefeinheit, bezeichnet auf der Karte mit dem Buchstaben:

a. B b. D c. E d. G **2 Punkte**

5. Der auf der Karte mit der Zahl **8** bezeichnete Fluss:

a. ist ein Nebenfluss der Ialomița b. entspringt im Parânggebirge  
c. heißt Argeș d. durchquert die Stadt Bukarest **2 Punkte**

**D. Bestimme drei Unterschiede zwischen der **Reliefeinheit**, bezeichnet auf der Karte mit dem Buchstaben **E** und der **Reliefeinheit**, bezeichnet auf der Karte mit dem Buchstaben **F**.**

**Bemerkung 1:** Die Unterschiede können sich auf jedwede der folgenden **Reliefaspekte** beziehen: Entstehungsart, Gesteinsarten, auf denen das Relief entstanden ist, Höhen, Zerrfurchung, Reliefstufen, Reliefarten, Orientierung der Gebirgsketten und der Haupttäler, Anordnung der Senken und andere spezifische Reliefaspekte.

**Bemerkung 2:** Die vollständige Punkteanzahl wird nur dann vergeben, wenn die drei Unterschiede vergleichend und nicht einzeln vorgestellt werden .

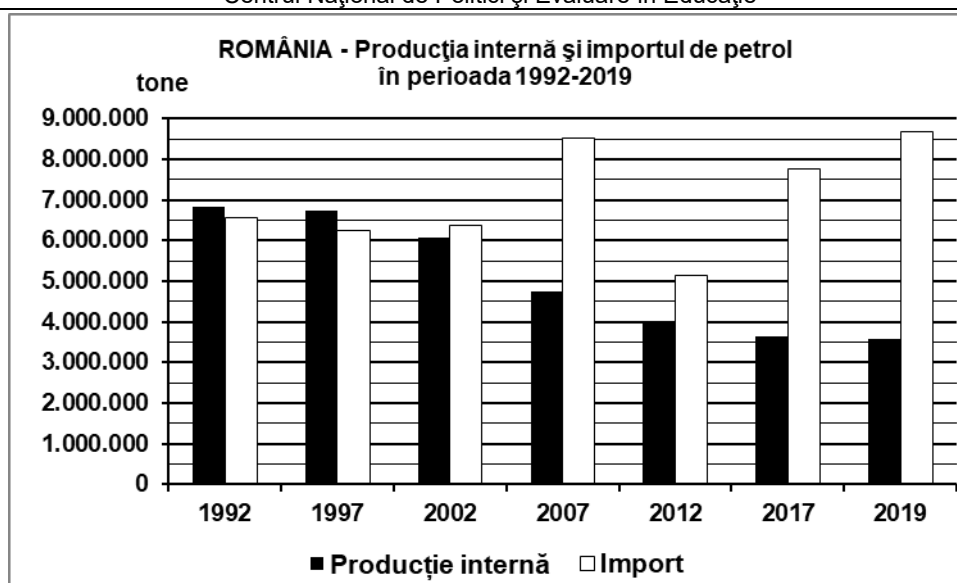
**Nota 3:** Es ist **nicht** nötig, die Namen der Reliefeinheiten zu nennen, man kann sich auf die Reliefeinheiten auch nur mit den Buchstaben beziehen, mit denen sie auf der Karte bezeichnet sind. **6 Punkte**

- E. Nenne zwei Günstigkeitselemente (zwei Günstigkeitsfaktoren), welche zur Entwicklung der Stadt geführt haben, die auf der Karte mit der Zahl **6** bezeichnet ist. **4 Punkte****

---

**AUFGABE III (30 Punkte)**

Die unten angezeigte graphische Darstellung bezieht sich auf die Aufgabe **III A-B** und stellt den Verlauf der eigenen erzeugten Erdölproduktion sowie der importierten Erdölmenge in der Zeitspanne 1992-2019 für Rumänien dar. *Quelle: Nationales Institut für Statistik*



**A. Bestimmt:**

1. den Höchstwert der importierten Erdölmenge, sowie das Jahr, in welchem er verzeichnet wurde;
2. die Jahre, in welchen die eigene erzeugte Erdölproduktion die importierte Erdölmenge überschritten hat.

**4 Punkte**

**B. 1.** Berechnet die Differenz zwischen der importierten Erdölmenge und der eigenen erzeugten Erdölmenge im Jahr 2007.

**2.** Berechnet, mit wieviel die Menge der eigenen erzeugten Erdölmenge im Jahr 1992 größer ist als die aus dem Jahr 2019..

**3.** Bestimmt den Namen von zwei Reliefeinheiten aus Rumänien, in denen Erdöl gefördert wird.

**6 Punkte**

**C. Nennt für die Republik Moldau, i:**

1. den Namen von zwei Nachbarstaaten;
2. den Namen von zwei Reliefeinheiten;
3. den Namen von zwei Flussläufen;
4. den Namen von drei Städten;
5. eine landwirtschaftliche Kultur.

**10 Punkte**

**D.** Die unten angezeigte Tabelle stellt den Anteil (%) der Bevölkerung mit einem Alter von über 65 Jahren in zwei europäischen Ländern in den Jahren 2009 und 2019 nach einigen Eurostatdaten dar.

Staat	2009	2019
Finnland	16,7%	21,8%
Rumänien	16,1%	18,5%

**1.** Berechnet, mit wieviel der Anteil der Bevölkerung mit einem Alter von über 65 Jahren in Rumänien zwischen den Jahren 2009 und 2019 gewachsen ist.

**2.** Berechnet, mit wieviel der Anteil der Bevölkerung mit einem Alter von über 65 Jahren im Jahr 2019 in Finnland größer ist als in Rumänien.

**3.** Nennt einen Faktor, der das Wachsen des Anteils der Bevölkerung mit einem Alter von über 65 Jahren in diesen beiden Staaten bestimmt.

**6 Punkte**

**E.** Stellt zwei Argumente vor, durch welche ihr die wirtschaftliche Bedeutung der Donau für Rumänien beweisen könnt.

**4 Punkte**